

रोल नं०

--	--	--	--	--	--	--	--

समय : 3घण्टे
Time : 3 Hours

पूर्णांक : 80
Max. Marks : 80

हाईस्कूल
प्रतिदर्श प्रश्न पत्र
सामाजिक विज्ञान
SOCIAL SCIENCE

- निर्देश-** (i) इस प्रश्न पत्र में कुल 29 प्रश्न हैं। सभी प्रश्न अनिवार्य हैं।
(ii) प्रत्येक प्रश्न के अंक प्रश्न के सामने दिए गए हैं।
(iii) प्रश्न संख्या 1 से 10 तक के प्रश्न एक-एक अंक के हैं। प्रत्येक का उत्तर एक शब्द अथवा एक वाक्य में दीजिए।
(iv) प्रश्न संख्या 11 से 18 तक के प्रश्न तीन-तीन अंकों के हैं। प्रत्येक का उत्तर 80 शब्दों से अधिक न हो।
(v) प्रश्न संख्या 19 से 28 तक के प्रश्न चार-चार अंकों के हैं। प्रत्येक का उत्तर 100 शब्दों से अधिक न हो।
(vi) प्रश्न संख्या 29 मानचित्र से सम्बन्धित है। मानचित्र को अपनी उत्तर-पुस्तिका के साथ संलग्न कीजिए।
(vii) प्रथम प्रश्न से आरम्भ कीजिए और अन्त तक करते जाइए। जो प्रश्न न आता हो उस पर समय नष्ट न करें।

Instructions:

- (i) These are 29 questions in all. All questions are compulsory.
(ii) Marks of each question are indicated against the question.
(iii) Question from serial number 1 to 10 are 1 marks question, Answer of these questions may be form one word to one sentence.
(iv) Question from serial number 11 to 18 are 3 marks questions. Answer of these questions should not exceed 80 word each.
(v) Question form serial number 19 to 28 are 4 marks questions. Answer of these questions should not exceed 100 word each.
(vi) Question no 29 is map question. Attach the map inside your answer book.
(vii) Start from the first question and peocceed to the last. Do not waste time over a question which you cannot solve.

- 1— 'मुद्रण ईश्वर की महानतम देन है' उक्त कथन किसका है? 1
"Printing the greatest gift of god". Whose statement is this?

अथवा (OR)

- 'गोदान' किस लेखक की कृति है?
Name of auther of "Godan"?
2— इन्डो-चायना मे शामिल देशों के नाम बताओ ? 1
Name of countries in Indo-China?
3— दो नवीकरणीय संसाधनों के नाम लिखो? 1
Write the name of two renewable resources?
4— जल पुनर्सम्भरण के दो माध्यमों का नाम लिखिए। 1
Name type of water conservation system ?
5— कृषि आधारित दो उद्योगों का नाम लिखिए। 1

- Write the name of two agriculture based industry.
- 6— वैध सरकार का अर्थ बताइये। 1
- What is the meaning of Valid Government?
- 7— लैंगिक असमानता से आपका क्या तात्पर्य है? 1
- What do you meaning by gender inequality?
- 9— जिला आपदा समिति का अध्यक्ष कौन होता है? 1
- Who is the chairman of District disaster management committee?
- 10— एन0सी0सी0 का पूर्ण नाम लिखिए। 1
- Write the full name of NCC.

नोट : प्रश्न संख्या 11 और 12 के लिए नीचे तीन समूह 'अ', 'ब' और 'स' दिये गये हैं। इन दोनों प्रश्नों के उत्तर के लिए किसी भी एक समूह को ही चुनिए।

Note : Given below are three group A, B and C question Number 11 and 12. Select any one group for answering these two questions.

समूह 'अ' (Group-'A')

- 11— हनोई प्लेग समस्या हल करने के लिए फ्रांसिसियों द्वारा उठाये किन्हीं तीन उपायों की व्याख्या कीजिए। 3
- Explain any three steps taken by the French to solve the Hanoi plague problem.
- 12— 1929 के आर्थिक मन्दी के भारतीय अर्थव्यवस्था पर पड़े किन्हीं तीन प्रभावों को बताइये। 3
- Mention any three effects on Indian economy due to the 1929 economic slowdowns.

समूह 'ब' (Group-'B')

- 11— रेशम मार्ग क्या है? इससे संसार में कौन-कौन से भाग जुड़े थे? 3
- What is silk rout? Which parts of the world were connected with it?
- 12— 19 वीं सदी में भारत के सूती कपड़ा उद्योग में गिरावट के मुख्य कारण क्या थे? 3
- What were the main reasons of the declination of cottan industry in Indian in nineteenth century?

समूह 'स' (Group-'C')

- 11— 19 वीं सदी के मध्य में मुम्बई की आबादी में भारी वृद्धि के कारणों पर संक्षेप में टिप्पणी कीजिए। 3
- Write the short note on the reasons of a heavy increment of the population of the Mumbai in the middle of nineteenth century.
- 12— औद्योगिक विकास से शहरों पर क्या प्रभाव पड़ा? 3
- What was the effect of Industrial development on cities?

- 13— मुद्रण संस्कृति का 19वीं सदी की भारतीय महिलाओं के सामाजिक स्थिति पर क्या प्रभाव पड़ा? संक्षेप में वर्णन करो। 3
Explain briefly the effect of Print culture on the social condition of the Indian women of 19th century.
- 14— व्यापार से आप क्या समझते हैं? स्थानीय व अन्तर्राष्ट्रीय व्यापार में अन्तर स्पष्ट करें। 3
What do you understand by the term trade? Distinguish the local and international trade.
- 15— दबाव समूह और राजनीतिक दल में अन्तर स्पष्ट कीजिए। 3
Clarify the difference between pressure group and political party.
- 16— उपभोक्ता सुरक्षा अधिनियम 1986 के निर्माण की जरूरत क्यों पड़ी? 3
Why was consumer security act 1986 formed?
- 17— सुरक्षित निर्माण विधि का क्या तात्पर्य है? इसकी प्रमुख विशेषताएँ बताइए। 3
What is safe construction method? Write its chief characteristics?
- 18— सुनामी से क्या तात्पर्य है? इसकी प्रमुख विशेषताएँ बताइए? 3
What is Tsunami? Write its main features?
- 19— मारिआन और जर्मनिया कौन थे? जिस तरह उन्हें चित्रित किया गया, उसका क्या महत्व था? 4
Who were Marian and Germania? What was the importance of the way they were picturized?
- अथवा (OR)**
- आपदा से क्या तात्पर्य है? उत्तराखण्ड में दो आपदाओं के उदहारण दीजिए।
What do you mean by disaster? Give two examples of disaster in Uttarakhand.
- 20— निम्न पर संक्षिप्त टिप्पणी लिखिये— (क) चौरी-चौरा काण्ड (ख) डाण्डी यात्रा 2+2
Write short note on the following –(a) Chauri-chaura incident (b) Dandi March.
- 21— संसाधन का क्या अर्थ है? संसाधनों के नियोजन की क्या आवश्यकता है? 4
What is the meaning of resource? Why we need to the planning of resources?
- 22— जल प्रदूषण के प्रमुख कारण कौन-कौन से हैं? उसे दूर करने का उपाय बताइये। 4
What is the major regions of the water pollution? Suggest some points to save water from being pollute.
- 23— 'सत्ता की साझेदारी जनतन्त्र की आत्मा है' बेल्जियम और श्रीलंका का उदहारण देकर विवेचना कीजिए। 4
"Power sharing is the soul of democracy" Analyses by illustrating Belgium and Shrilanks.
- 24— भारतीय लोकतंत्र के विकास में जाति, धर्म एवं लैंगिक मसले किस प्रकार बाधक हैं? संक्षेप में समझाइए। 4
Explain briefly how the caste, religion and gender are hurdles in the development of Indian democracy.
- 25— भारत में बेरोजगारी के प्रमुख कारणों की विवेचना कीजिए तथा उन्हें दूर करने के उपायों पर प्रकाश डालिए। 4
Analyses the major causes of unemployment in India and put the points to remove them.
- 26— राष्ट्रीय ग्रामीण रोजगार गारण्टी अधिनियम 2005 के उद्देश्यों की व्याख्या कीजिए। 4
Explain the objects of national rural employment guarantee act 2005.
- 27— बहुराष्ट्रीय कम्पनी से क्या अभिप्राय है? वैश्विकरण प्रक्रिया में बहुराष्ट्रीय कम्पनियों की भूमिका का वर्णन करो।
What do you understand by the multinational companies ? Explain the role of multinational cpmpanies in the present time.

28— बैंक से आप क्या समझते हैं? वर्तमान में बैंक क्या कार्य सम्पन्न करते हैं?

4

What do you understand by the term Bank? Point out the main works done by the banks in present time?

29—(अ) दिये गये भारत के राजनैतिक रेखा मानचित्र पर उन दो राज्यों की पहचान कर नाम लिखो जहाँ निम्नलिखित घटनाएँ हुई—

(क) नमक का आन्दोलन का मुख्य केन्द्र

(ख) जलियाँवाला बाग हत्याकाण्ड


1+1=2

(A) On the given political outline map of India, locate and label two states where the following events happened-


(a) Main center of "Salt movements"

(b) Jaliyanwala Bagh massacre.


(ब) दिये गये भारत के इसी मानचित्र पर संकेतों की सहायता से निम्नलिखित को दर्शाएँ और उन स्थानों के नाम भी लिखिए तथा मानचित्र को उत्तर पुस्तिका में संलग्न कीजिए—

(क) भारत का दक्षिणतम बिन्दु  चिन्ह से।


1

(ख) कॉर्बेट नेशनल पार्क  चिन्ह से।

1

(ग) बरौनी तेलशोधन कारखाना  चिन्ह से।


1


(घ) पूर्व-पश्चिम गलियारे का पूर्वी छोर  चिन्ह से।


1


(B) On the given political map of India, Located and label the following with symbol marked against each.

Attach the map to you answer book.

(a) The southernmost point of India with sign 

(b) Corbett National Park with sign 

(c) Barauni oil refinery with sign 

(d) Eastern terminal of East-west corridor with sign 

नोट : निम्नलिखित प्रश्न केवल दृष्टिहीन परीक्षार्थियों के लिए प्रश्न संख्या 29 के स्थान पर हैं।

NOTE : The following question is for the blind candidates only in lieu of question number 29.

(अ) उन राज्यों के नाम लिखिए, जहाँ निम्नलिखित घटनाएँ घटित हुई—

(क) नमक आन्दोलन का मुख्य केन्द्र

(ख) जलियावाला बाग हत्याकाण्ड।

1+1=2

(A) Write the name of state where the following events happened.

(a) Main center of "Salt movements"

(b) Jaliyawala Bagh massacre.


(ब) उन राज्यों के नाम लिखिए जहाँ निम्नलिखित स्थित है—

(क) भारत का दक्षिणतम बिन्दु



1

(ख) कॉर्बेट नेशनल पार्क



1

(ग) बरौनी तेलशोधन कारखाना




1


(घ) पूर्व-पश्चिम गलियारे का पूर्वी छोर




1

(B) Name the state where the following are situated-

(a) The southernmost point of India with sign 

(b) Corbett National Park with sign 

(c) Barauni oil refinery with sign 

(d) Eastern terminal of East-west corridor with sign 