

रोल नं.
Roll No.

--	--	--	--	--	--	--	--

मुद्रित पृष्ठों की संख्या : 7
No. of printed pages : 7

034

234 (HSJ)

2020

सामाजिक विज्ञान
SOCIAL SCIENCE

समय : 3 घण्टे]

[पूर्णांक : 80

Time : 3 Hours]

[Max. Marks : 80

- निर्देश : (i) इस प्रश्न-पत्र में कुल 29 प्रश्न हैं। सभी प्रश्न अनिवार्य हैं।
(ii) प्रत्येक प्रश्न के अंक प्रश्न के सामने दिए गए हैं।
(iii) प्रश्न संख्या 1 से 10 तक के प्रश्न एक-एक अंक के हैं। प्रत्येक का उत्तर एक शब्द अथवा एक वाक्य में दीजिए।
(iv) प्रश्न संख्या 11 से 18 तक के प्रश्न तीन-तीन अंकों के हैं। प्रत्येक का उत्तर 80 शब्दों से अधिक न हो।
(v) प्रश्न संख्या 19 से 28 तक के प्रश्न चार-चार अंकों के हैं। प्रत्येक का उत्तर 100 शब्दों से अधिक न हो।
(vi) प्रश्न संख्या 29 मानचित्र से सम्बन्धित है। मानचित्र को अपनी उत्तर-पुस्तिका के साथ संलग्न कीजिए।
(vii) प्रथम प्रश्न से आरम्भ कीजिए और अन्त तक करते जाइए। जो प्रश्न न आता हो उस पर समय नष्ट न कीजिए।

- Note :** (i) There are 29 questions in all. **All** questions are **compulsory**.
(ii) Marks for each question are indicated against the question.
(iii) Questions from serial number 1 to 10 are 1 mark questions. Answer of these questions may be from one word to one sentence.
(iv) Questions from serial number 11 to 18 are 3 marks questions. Answer of these questions should not exceed 80 words each.
(v) Questions from serial number 19 to 28 are 4 marks questions. Answer of these questions should not exceed 100 words each.
(vi) Question number 29 is map question. Attach the map inside your answer book.
(vii) Start from the first question and proceed to the last. Do not waste time over a question which you can not solve.

1. निम्नलिखित में से किस प्रान्त में सीढ़ीदार (सोपानी) खेती की जाती है? 1

(i) पंजाब (ii) हरियाणा

(iii) उत्तर प्रदेश के मैदान (iv) उत्तराखण्ड

In which one of the following states is terrace cultivation practised?

(i) Punjab (ii) Haryana

(iii) Plains of Uttar Pradesh (iv) Uttrakhand

2. निम्न में से कौन सा उद्योग चूना पत्थर को कच्चे माल के रूप में प्रयोग करता है? 1

(i) एल्यूमिनियम (ii) सीमेंट

(iii) प्लास्टिक (iv) मोटर गाड़ी

Which one of the following industries uses limestone as a raw material?

(i) Aluminium (ii) Cement

(iii) Plastic (iv) Automobile

3. इनमें से कौन सी एक रेशेदार फसल है? 1

(i) गेहूँ (ii) कपास

(iii) ज्वार (iv) तिल

Which of the following is a fibre crop?

(i) Wheat (ii) Cotton

(iii) Jawar (iv) Sesamum

4. सरदार सरोवर बाँध किस राज्य में स्थित है - 1

(i) गुजरात (ii) उत्तर प्रदेश

(iii) बिहार (iv) पंजाब

In which state, Sardar Sarovar Dam is situated -

(i) Gujarat (ii) Uttar Pradesh

(iii) Bihar (iv) Punjab

5. जापान की प्राचीनतम मुद्रित पुस्तक कौन सी है? 1

Which one is the oldest printed book of Japan?

6. शहरीकरण से आप क्या समझते हैं? 1

What do you mean by Urbanisation?

7. सार्वभौमिक वयस्क मताधिकार से क्या तात्पर्य है? 1
What is meant by Universal Adult franchise?
8. एच.डी.आई. (HDI) का पूरा नाम लिखिए। 1
Write the full name of HDI.
9. राष्ट्रीय स्तर पर नाभिकीय आपदा प्रबन्धन के लिये कौन सा मंत्रालय उत्तरदायी होता है? 1
Which ministry is responsible for nuclear disaster management on national level?
10. एन.सी.सी. (NCC) का पूर्ण रूप लिखिए। 1
Write the full form of NCC.
11. वर्ष 1929 की आर्थिक महामन्दी का भारतीय अर्थव्यवस्था पर क्या प्रभाव पड़ा? 3
What impacts did the Great Depression of year 1929 cast on the Indian economy?

अथवा (OR)

ब्रेटन वुड्स समझौते का क्या अर्थ है?

What is meant by the Bretton Woods Agreement?

12. पूर्व-औद्योगीकरण से आप क्या समझते हैं? 3
What do you understand by proto-industrialisation?

अथवा (OR)

उन्नीसवीं सदी के यूरोप में कुछ उद्योगपति मशीनों के बजाय हाथ से काम करने वाले श्रमिकों को क्यों प्राथमिकता देते थे?

Why did some industrialists in nineteenth century Europe prefer hand labour over machines?

13. मुद्रण संस्कृति ने भारत में राष्ट्रवाद के विकास में क्या योगदान दिया? 3
What contribution did print culture play in the development of nationalism in India?
14. परिवहन व संचार के साधन किसी देश की जीवन रेखा क्यों कहे जाते हैं? स्पष्ट कीजिए। 3
Why are the means of transport and communication called the life line of a country? Explain.

15. चावल की खेती के लिए उपयुक्त भौगोलिक परिस्थितियों का वर्णन कीजिए। 3
Describe the geographical conditions required for the growth of rice.
16. भारत सरकार द्वारा उपभोक्ता सुरक्षा अधिनियम 1986 को पारित करने के किन्हीं तीन कारणों की व्याख्या कीजिए। 3
Describe any three causes of passing Consumer Protection Act 1986 by Indian Government.
17. सुनामी का क्या अर्थ है? समझाइये। 3
What is meant by Tsunami? Explain.
18. निम्नलिखित पर संक्षिप्त टिप्पणी लिखिए - $1\frac{1}{2}+1\frac{1}{2}=3$
(क) राष्ट्रीय सूचना केन्द्र (एन.आई.सी.)
(ख) एमेच्योर (हैम) रेडियो
Write a short notes on following -
(a) National Informatics Center (NIC)
(b) Amateur (ham) Radio
19. 1789 ई. की फ्रांसीसी क्रांति के परिणामों का विस्तृत वर्णन कीजिए। 4
Describe in detail the results of French Revolution in 1789 A.D.
20. निम्नलिखित पर संक्षिप्त टिप्पणी लिखिए - $2+2=4$
(क) सविनय अवज्ञा आन्दोलन
(ख) जलियांवाला बाग हत्याकांड
Write short notes on the following-
(a) Civil Disobedience Movement
(b) Jallianwala Bagh Massacre
21. शासन के संघीय एवं एकात्मक स्वरूपों में क्या-क्या मुख्य अन्तर हैं? उदाहरणों के माध्यम से स्पष्ट कीजिए। 4
What are the main differences between a federal form of government and a unitary one? Explain with examples.

22. नदियों का जल प्रदूषित कैसे होता है? इस प्रदूषण को कम करने के उपाय सुझाइए। 4
How does the water of rivers get polluted? Suggest the measures to be taken to minimise this pollution.

अथवा (OR)

भारत में कोयले के वितरण का वर्णन कीजिए।

Describe the distribution of coal in India.

23. लोकतंत्र किन परिस्थितियों में सामाजिक विविधता को संभालता है और उनके बीच सामंजस्य बैठाता है? 4

What are the conditions under which democracies accommodate social diversities?

24. भारतीय लोकतन्त्र के विकास में जाति, धर्म एवं लैंगिक मसले किस प्रकार अवरोध हैं? उदाहरण सहित समझाइये। 4

How the matters related with caste, religion and gender are obstacle in growth of Indian democracy? Explain with examples.

अथवा (OR)

सामाजिक अंतर कब और कैसे सामाजिक विभाजनों का रूप ले लेते हैं? व्याख्या कीजिए।

When does a social difference become a social division? Explain.

25. लोकतंत्र में राजनीतिक दलों की अहम भूमिका का विस्तार से वर्णन कीजिए। 4
Explain in detail the significant role of Political parties in democracy.

26. प्राथमिक (कृषि) क्षेत्रक से प्रच्छन्न बेरोजगारी की समाप्ति के लिये किये जा सकने वाले उपायों की व्याख्या कीजिये। 4

Describe the measures to be taken to end-up the disguised unemployment from primary (agriculture) sector.

27. वस्तु विनिमय से आप क्या समझते हैं? इसकी प्रमुख कठिनाइयों का वर्णन कीजिए। 4
What do you understand by Exchange of Things? Describe its main problems.

अथवा (OR)

साख से आप क्या समझते हैं? आपकी समझ में गरीब परिवारों की तुलना में अमीर परिवारों के औपचारिक साख का हिस्सा अधिक क्यों होता है?

What do you mean by Credit? Why do you think that the share of formal sector credit is higher for the richer households compared to the poorer households?

28. बहुराष्ट्रीय कम्पनियों से क्या आशय है? आधुनिक अर्थव्यवस्था में उनकी कार्य प्रणाली क्या है? 4
What is meant by Multi-National Companies? What are their functions in modern economy?

29. (अ) दिये गये भारत के राजनैतिक रेखा मानचित्र पर उन दो राज्यों की पहचान कर उन राज्यों के नाम लिखिए, जहाँ निम्नलिखित घटनाएँ हुई-

(क) देश की पहली जूट मिल लगायी गयी। 1


(ख) 1912 में भारत का पहला लौह एवं इस्पात संयन्त्र स्थापित किया गया। 1

(A) On the given political outline map of India, locate and label two states where the following events happened -


(a) First Indian Jute mill was set up.


(b) In 1912, the first iron and steel works was set up in India

(ब) दिये गये भारत के इसी मानचित्र पर संकेतों की सहायता से निम्नलिखित को दर्शाइए और उन स्थानों के नाम भी लिखिए तथा मानचित्र को उत्तर पुस्तिका में संलग्न कीजिए-

(ग) रानीगंज कोयला उत्पादन क्षेत्र  चिन्ह से 1

(घ) टिहरी बांध परियोजना  चिन्ह से 1

(ङ) तारापुर आणविक उर्जा केन्द्र  चिन्ह से 1

(च) विशाखापट्टनम समुद्री पत्तन  चिन्ह से 1

(B) On the same given political map of India, locate and label the following places with symbols as marked hereunder and attach the map to your answer book-

(c) Raniganj Coal Producing Area with sign 

(d) Tehri Dam Project with the sign 

(e) Tarapur Atomic Energy Centre with the sign ●

(f) Vishakhapatnam Sea Port with the sign ⊕

नोट : निम्नलिखित प्रश्न केवल दृष्टिहीन परीक्षार्थियों के लिए प्रश्न संख्या 29 के स्थान पर है।

Note : The following question is for the Blind candidates only in lieu of question number 29.

(अ) उन राज्यों के नाम लिखिए, जहाँ निम्नलिखित घटनाएँ घटित हुईं-

(क) हिन्दुस्तान सोशलिस्ट रिपब्लिकन आर्मी की स्थापना हुई। 1

(ख) डांडी यात्रा 1

(A) Write the name of states where the following events happened -

(a) Foundation of Hindustan Socialist Republican Army.

(b) Dandi March

(ब) उन राज्यों के नाम लिखिए, जहाँ निम्नलिखित स्थित हैं-

(ग) पारादीप समुद्री पत्तन 1

(घ) काजीरंगा राष्ट्रीय उद्यान 1

(ङ) तारापुर परमाणु उर्जा केन्द्र 1

(च) श्रीनगर ऊनी वस्त्र उत्पादन क्षेत्र 1

(B) Write the name of the states where the following are situated-

(c) Paradeep Sea Port

(d) Kajiranga National Park

(e) Tarapur Atomic Power Centre

(f) Srinagar Woolan Textile Industry
